

LENGUA

TERMINAMOS EL TRIMESTRE

Material de ayuda
Láminas: Los números del 0 al 99. Escritura de números.

1 Escribe los números que faltan.

28 29 30 31

47 48 49 50 51

59 60 61 62

69 70 71 72 73

2 Completa y escribe el número.

28 ▶ 2 D y 8 U ▶ veintiocho

57 ▶ 5 D y 7 U ▶ cincuenta y siete

73 ▶ 7 D y 3 U ▶ setenta y tres



3 Rodea en cada caso:

- el número mayor
- el número menor

4 Calcula.

$$4 + 3 + 8 = 15$$

$$7 + 6 + 3 = 16$$

$$60 + 20 = 70$$

$$40 + 40 = 80$$

$$80 - 50 = 30$$

$$60 - 10 = 50$$

3 Compara los números y escribe el signo $>$ o $<$.

$9 < 17$

$45 > 40$

$53 < 63$

$72 > 54$

$39 < 63$

$15 > 11$

$61 > 16$

$28 > 22$

$66 < 77$

6 Suma y resta.

34	46	63	57	79
+ 25	+ 32	+ 6	- 43	- 8
59	78	69	14	71

7 Lee y resuelve.

Daniel tiene 68 ladrillos.
Utiliza 56 para hacer una caseta.
¿Cuántos ladrillos le sobran?



OPERACIÓN

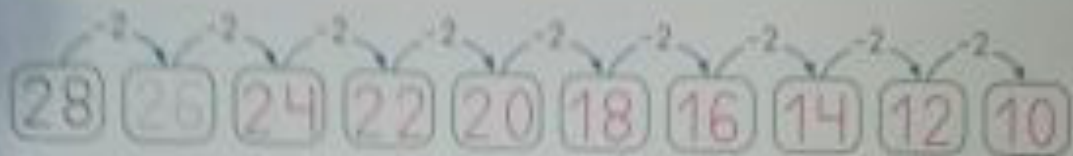
$$\begin{array}{r} \text{D U} \\ 68 \\ + 56 \\ \hline 12 \end{array}$$

SOLUCIÓN


Le sobran 12
ladrillos

ENTRENO MI CALCULO MENTAL

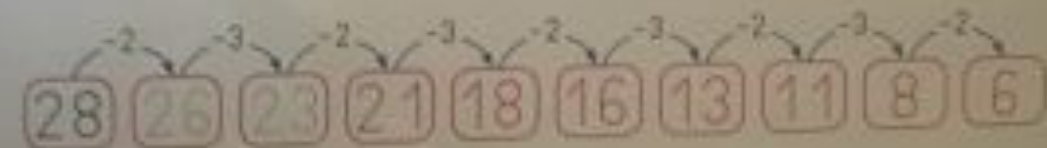
- Resta 2 y completa las series.



- Ahora resta 3 y completa.



- Fíjate bien y completa la serie.



- Calcula

$$\begin{array}{r} 8 - 6 \\ 2 \end{array} \quad \begin{array}{r} 6 - 6 \\ 0 \end{array} \quad \begin{array}{r} 9 - 6 \\ 3 \end{array} \quad \begin{array}{r} 7 - 7 \\ 0 \end{array} \quad \begin{array}{r} 8 - 7 \\ 1 \end{array} \quad \begin{array}{r} 9 - 8 \\ 1 \end{array} \quad \begin{array}{r} 9 - 9 \\ 0 \end{array}$$